



## Guía de trabajo N°13 Matemáticas

Nombre: \_\_\_\_\_

Curso: \_\_\_\_\_ fecha: \_\_\_\_\_

### **HABILIDADES A EVALUAR:**

01. Sumar cantidades según corresponda.
02. Restar cantidades según corresponda.
03. Graficar los números correspondientes al resultado obtenido.

### **OBJETIVOS:**

N°12

Comunicar el proceso desarrollado en la resolución de problemas y realizar los problemas.

Sr. Apoderado:

Junto con saludar, envié guía de trabajo N°13 la cual debe ser realizada diariamente al igual que la anterior, pues la idea es reforzar el trabajo con los niños y niñas como si fueran normalmente al colegio.

Desde ya me gustaría pedir su cooperación, ya que necesito recibir las guías realizadas, a través de correo electrónico o captura de fotos, para así poder tener un respaldo de las actividades realizadas por los niños y niñas de nuestro nivel. Con respecto a la fecha de entrega, la guía N°13 debe ser entregada el día viernes 25 de Septiembre.

El correo para consultas o envío de trabajos: [angelica.valenzuela.a28@gmail.com](mailto:angelica.valenzuela.a28@gmail.com) y el horario de atención será de lunes a jueves desde las 9:30 a las 17:30 y el día viernes de 9:30 a 13:30 hrs. Todo whatsapp o correo que llegue fuera del horario, será respondido al día siguiente, al igual que correos que lleguen el fin de semana.

Recordar medidas de higiene: lavado de mano, limpieza de superficies, taparse al estornudar con el ante brazo, entre otras.

Saludos, cariños y abrazos.

Se despide atte. Angélica Valenzuela – Educadora de párvulos.

Colegio Tecnológico Pulmahue



Colegio tecnológico pulmahue  
Educatora: Angélica Valenzuela  
Correo: angelica.valenzuela.a28@mail.com

Semana 21 al 25 de agosto.

**¡Juguemos a sumar y restar!**

**Cuenta con material concreto o tachando las imágenes y resta o suma según corresponda.**

Agrega el signo que corresponde para el resultado obtenido. (+ o -)

Ejemplo:  $4+4=8$ .

$$4 \bigcirc 4 = 8$$

$$9 \bigcirc 2 = 7$$

$$2 \bigcirc 4 = 6$$

$$9 \bigcirc 4 = 5$$

$$2 \bigcirc 2 = 4$$




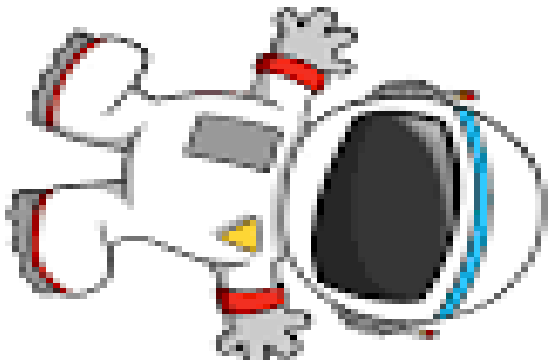
$$8 \bigcirc 5 = 3$$



Colegio tecnológico pulmahue  
Educatora: Angélica Valenzuela  
Correo: angelica.valenzuela.a28@mail.com

Semana 21 al 25 de Septiembre.

Restar, sumar y luego graficar el resultado.



$2 + 4 =$   $14 - 7 =$

$6 + 7 =$   $15 - 4 =$

$9 + 9 =$   $12 - 6 =$

$8 + 5 =$   $10 - 3 =$



Colegio tecnológico pulmahue  
Educatora: Angélica Valenzuela  
Correo: angelica.valenzuela.a28@mail.com

Semana 21 al 25 de Septiembre.

Observar las imágenes, si es suma o resta y luego realizar.

<p>8 - 4 = 4</p>	<p>5 - 3 = 2</p>	<p>6 + 3 = 9</p>	<p>7 - 3 = 4</p>	<p>6 + 4 = 10</p>
<p>8 - 4 = 4</p>	<p>5 - 3 = 2</p>	<p>6 + 3 = 9</p>	<p>7 - 3 = 4</p>	<p>6 + 7 = 13</p>

